

Nom : .....

Date : .....

- Calculer avec les euros.
- Se familiariser avec la monnaie.

## Exercices

## La monnaie (1)

<http://www.i-profs.fr>

1

Ecris la somme que possède chaque enfant.



.....€



.....€



.....€



3

Indique les sommes en euros.



.....€



.....€



.....€



4

Entoure les sommes qu'il faut pour acheter les objets.



6€



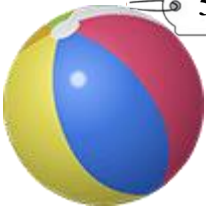
7€




9€



5

Dessine le moins de pièces d'  et de  qu'il faut pour acheter les objets.

5€



9€

Nom : .....

Date : .....

- Calculer avec les euros.
- Se familiariser avec la monnaie.

Corrigé

## La monnaie (1)

<http://www.i-profs.fr>

1

Ecris la somme que possède chaque enfant.



5 €



6 €



7 €



3

Indique les sommes en euros.



8 €



9 €



10 €




4

Entoure les sommes qu'il faut pour acheter les objets.



6 €



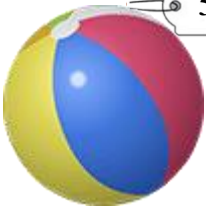
7 €



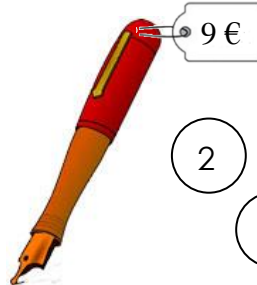
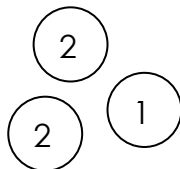
9 €



5

Dessine le moins de pièces d'  et de  qu'il faut pour acheter les objets.

5 €



9 €

